

Всероссийская межпредметная олимпиада


«Интеллект – 2026»

(для учащихся 1-2 классов)

Задания

Ответ должен быть представлен строго в виде ОДНОГО СЛОВА или ОДНОГО ЧИСЛА без кавычек, точек, орфографических ошибок в именительном падеже и единственном числе. Неверно записанные ответы не учитываются.

1. Догадайся, какой всем известный сказочный герой здесь зашифрован. Запиши имя этого героя в ответе.



2. Прочитай начало сказки. Вспомни, какая рыба помогала герою этой сказки? Запиши её название в ответе.

«Жил-был старик. У него было три сына: двое умных, третий — дурачок Емеля. Те братья работают, а Емеля целый день лежит на печке, знать ничего не хочет»

3. На его щупальцах можно насчитать до двух тысяч присосок. Щупальца помогают ему ловить добычу, а присоски позволяют удержать пойманную скользкую рыбу. А ещё его можно назвать вундеркиндом. Он поддаётся дрессировке, имеет хорошую память и может отличить прямоугольник от квадрата.



Кто же это? Запиши отгадку в ответе.

4. Прочитай стихотворение С. Я. Маршака. Сосчитай, сколько звуков [ш] произносится в стихотворении? Запиши это число в ответе.

Говорила мышка мышке:
- До чего люблю я книжки!
Не могу я их прочесть,
Но зато могу их съесть.

11. Это самая крупная железа, расположенная рядом с желудком. В ней образуется желчь, необходимая для того, чтобы расщеплять жиры.

Догадайся, о чём идёт речь? Запиши отгадку в ответе.



12. Какое животное спряталось в слове **КОЛОСЬЯ**?

Запиши найденное слово в ответе.

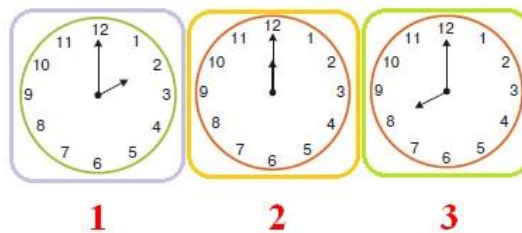
13. Это главный герой сказки шведской писательницы Астрид Линдгрен. Сам себя он называет красивым, умным, в меру упитанным мужчиной в полном расцвете сил.

Догадайся, кто он? Запиши его имя в ответе.



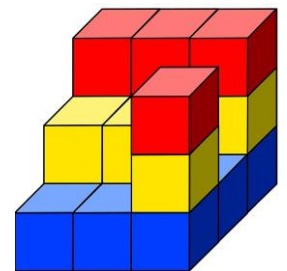
14. Умеешь ли ты определять время по часам? Знаешь ли, когда приходит Новый год? Посмотри на рисунок. Какое время показывают часы?

А какие из них показывают время, в которое наступает Новый год? Запиши номер этих часов в ответе.



15. Сосчитай, сколько кубиков понадобилось взять для такой постройки?

Запиши полученное число в ответе.



16. Рассмотрю карту Евразии. Как называется самая большая по площади страна?

Запиши название этой страны в ответе.

